

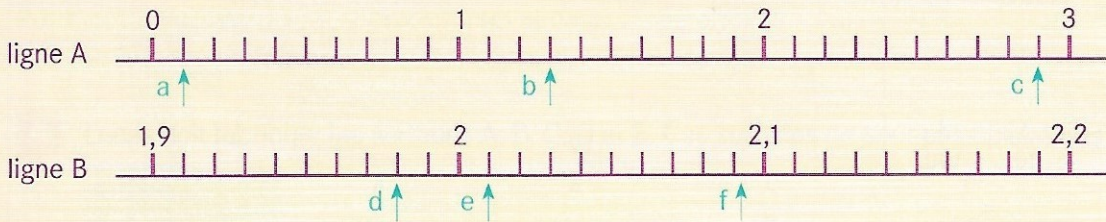


Nombres décimaux : graduation et partie entière

Je cherche

DES NOMBRES

SUR UNE LIGNE GRADUÉE



LES DEUX LIGNES NE SONT PAS GRADUÉES DE LA MÊME FAÇON.

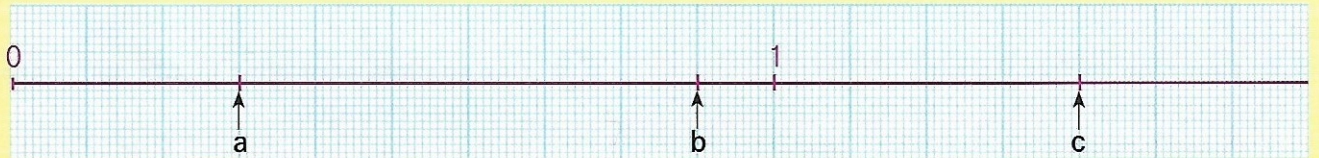


- A** Place chaque nombre en face du bon repère sur la ligne graduée qui convient.
2,7 1,5 1,95 2,03 2,3 2,15 2,20
- B** Écris les nombres décimaux qui correspondent aux repères a, b, c, d, e et f.
Utilise une écriture à virgule.

Je m'entraîne

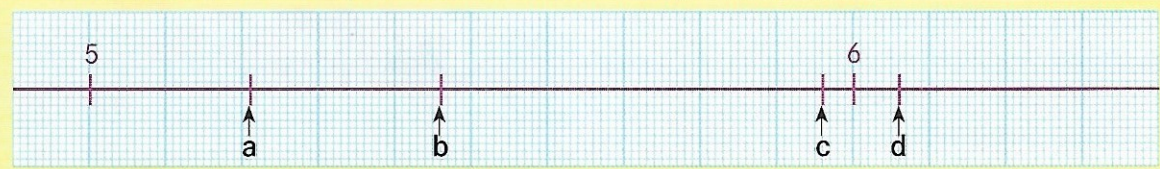
SE REPÉRER SUR UNE LIGNE GRADUÉE **DICO 25**

1 a. Quels nombres correspondent à chacun des repères a, b et c ?



b. Sur la ligne de ta fiche, place les nombres : 0,5 0,8 1,1 1,5

2 a. Quels nombres correspondent à chacun des repères a, b, c et d ?



b. Sur la ligne de ta fiche, place les nombres : 5,3 5,5 5,05 5,65 6,25

3 Sur la ligne de ta fiche, place les nombres sur la ligne graduée en avançant de 0,5 en 0,5 à partir de 4.

